

Adı - Soyadı :

Sınıfı - No :



Konu Kazanım Testi - 1

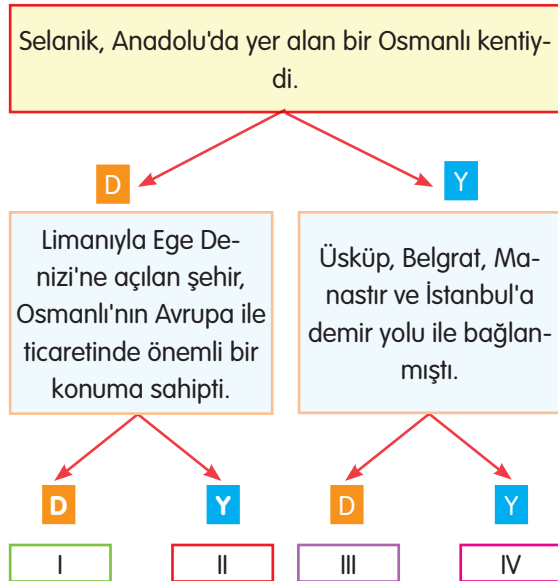
Batıya Erken Açılan Kent: Selanik

- 1) Osmanlı Devleti, çok uluslu bir yapıya sahipti. Ülke sınırları içinde Türklerle beraber pek çok millet de bulunuyordu. Bu çok uluslu yapı, konuşulan dil, inançlar, gelenek ve görenekler ülkede çok zengin bir kültürel yapının oluşmasını sağlamıştı. 19. yüzyıla kadar huzur ve güven içerisinde yaşayan bu milletler, Fransız İhtilali ile ortaya çıkan milliyetçilik düşüncesinden etkilenmişlerdi. Bu devletler, Osmanlı toprakları üzerinde çıkarları olan emperyalist devletlerin de kışkırtmaları ile isyan edip bağımsızlık çabası içerisine girdiler.

Verilen durumun, aşağıdakilerden hangisine ortam hazırladığı söylenebilir?

- A) Balkanların zenginleşip gelişmesine
B) Balkanların pek çok siyasi çatışmanın yaşandığı bir bölge olmasına
C) Balkanların huzurlu bir yaşam alanı haline gelmesine
D) Osmanlı Devleti'nin toprak bütünlüğünü korumasına

- 2) Aşağıda verilen birbiriyle bağlantılı cümleler arasında D "Doğru", Y "Yanlış" anlamındadır.



Şemadaki doğru bilgiler takip edilerek varılan sonuç, aşağıdakilerden hangisidir?

- A) I B) II
C) III D) IV

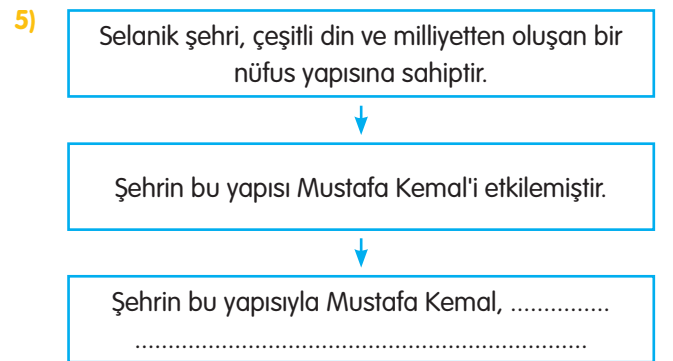
- 3) Osmanlı Devleti sınırları içinde Türklerle birlikte pek çok farklı millet de huzur ve güven içerisinde yaşıyordu. 19. yüzyıldan itibaren bu milletler, Osmanlı Devleti'ne karşı isyan edip bağımsızlık çabası içerisine girdiler. **Huzur ve güven içerisinde yaşayan bu milletlerin Osmanlı Devleti'ne karşı isyan etmelerine neden olan olay aşağıdakilerden hangisidir?**

- A) Sanayi İnkılabı B) Birinci Dünya Savaşı
C) 31 Mart Olayı D) Fransız İhtilali

- 4) Selanik şehrinde Türklerle birlikte Rum, Bulgar, Sırp, Yahudi ve Ermeniler gibi milletler yaşamaktaydı. Türkler ise bu milletlere göre şehirde çoğunluğu oluşturuyordu.

Selanik ile ilgili verilen bilgilere bakarak aşağıdakilerden hangisi söylenebilir?

- A) Farklı milletlerin bir arada yaşadığı bir şehir olduğu
B) Azınlıkların dini yaşamlarında zorluklarla karşılaştıkları bir şehir olduğu
C) Aynı dine inanan insanların bir arada yaşadığı bir şehir olduğu
D) Pek çok siyasi çatışmanın yaşandığı bir şehir olduğu



Diyagramda boş bırakılan yere, aşağıdaki ifadelerden hangisi yazılırsa bilgi bütünlüğü doğru sağlanmış olur?

- A) Farklı kültürleri tanıma fırsatı bulmuştur.
B) Bilimsel ve akılcı bir anlayışa sahip olmuştur.
C) Yönetim tecrübesi kazanmıştır.
D) Askerlik bilgi ve tecrübesini geliştirmiştir.

Yavuz YILDIZ



- 6) Selanik, Rumeli'de yer alan bir Osmanlı kentiydi. Limanıyla Ege Denizi'ne açılan şehir, Osmanlı'nın Avrupa ile ticaretinde önemli bir konuma sahipti. Selanik, Üsküp, Belgrad, Manastır ve İstanbul'a demir yolu ile bağlanmıştı. Selanik şehrinde Türklerle birlikte Rum, Bulgar, Sırp, Yahudi ve Ermeniler gibi milletler yaşamaktaydı. Bu çok uluslu yapı, konuşulan dil, inançlar, gelenek ve görenekler Selanik'te zengin bir kültürel yapının oluşmasını sağlamıştı.

Yukarıdaki parçada Selanik ile ilgili aşağıdakilerden hangisine değinilmemiştir?

- A) Kültürel yapı B) Ekonomik hayat
C) Askeri yapı D) Coğrafi konum

- 7) 20. yüzyıl başlarında devletin kurtuluşunu meşruti bir yönetimde arayan Osmanlı aydınları özellikle bu şehirde örgütlenmişlerdi. Düşüncelerini geniş kitlelere yaymak amacıyla burada çeşitli gazete ve dergiler çıkarmışlardı. Osmanlılık fikri etrafında birleşen bu aydınlar, zamanla güçlenerek Sultan II. Abdülhamit'e meşrutiyeti yeniden ilan ettirdiler.

Osmanlı aydınları bu çalışmalarını aşağıdaki şehirlerin hangisinde gerçekleştirmişlerdir?

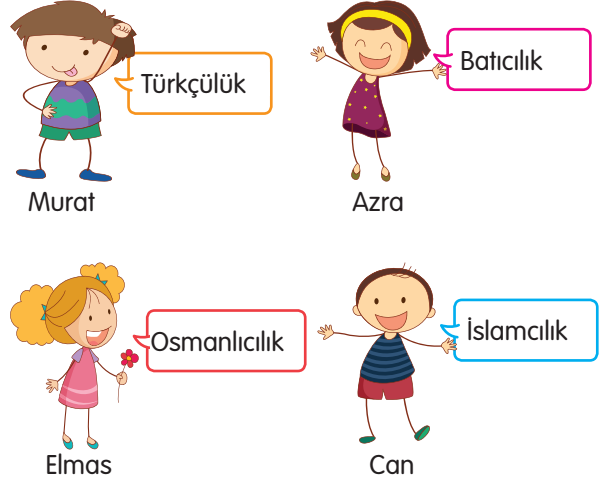
- A) Manastır B) Selanik
C) Sofya D) Şam

- 8) Mustafa Kemal'in ailesi Rumeli'nin fethi sırasında Anadolu'dan Selanik'e getirilerek yerleştirilen Türk boylarına mensuptur. Babası Ali Rıza Efendi'nin ailesi Aydın'ın Söke tarafından gelmiştir. Annesi Zübeyde Hanım, Konya'dan Rumeli'ye göç eden bir ailenin kızıdır.

Verilen bilgilere göre Mustafa Kemal'in ailesi ile ilgili aşağıdakilerden hangisi söylenemez?

- A) Anadolu'dan getirilerek Rumeli'ye yerleşen Türklerden oldukları
B) Baba tarafının Aydın taraflarından göç ettiği
C) Annesinin ailesinin Konya'dan Rumeli'ye göç ettiği
D) Dönemin şartlarına göre Rumeli'den Anadolu'ya göç ettikleri

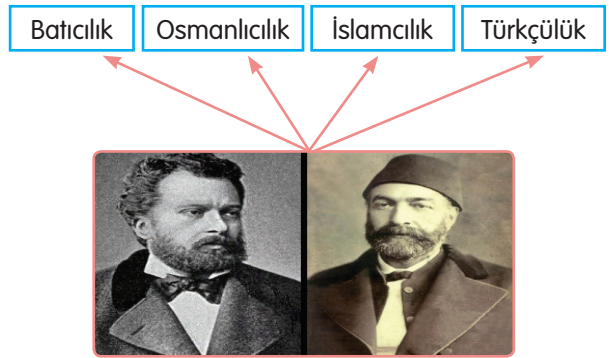
9)



Hangi öğrencinin söylediği fikir akımı, Osmanlı Devleti'ni içinde bulunduğu durumdan kurtarmak için en son ortaya atılmıştır?

- A) Murat B) Azra
C) Elmas D) Can

10)



Osmanlı aydınları

Fransız İhtilali'nin etkilerini gören Osmanlı aydınları, yukarıdaki fikir akımlarına yöneldiler.

Osmanlı aydınları tarafından ortaya atılan bu fikir akımlarının ortak amacı, aşağıdakilerden hangisidir?

- A) Osmanlı Devleti'ni içinde bulunduğu durumdan kurtarmak
B) Balkan milletlerinin bağımsız olmasını sağlamak
C) Yeni yerlerin fethedilmesini kolaylaştırmak
D) Osmanlı Devleti'nde inkılap hareketlerini başlatmak